

Gra dydaktyczna

Klasa 3 - styczeń- blok 1 - dzień 2

„Pomyśl i odpowiedz ”



Gra przeznaczona jest dla 2- 4 graczy plus osoba prowadząca.

W skład gry wchodzi:

Plansza – format A3,

4 pionki w kolorze: żółtym, białym, zielonym i niebieskim,

Kostka do gry.

Polecenia do wykonania na kartonikach.

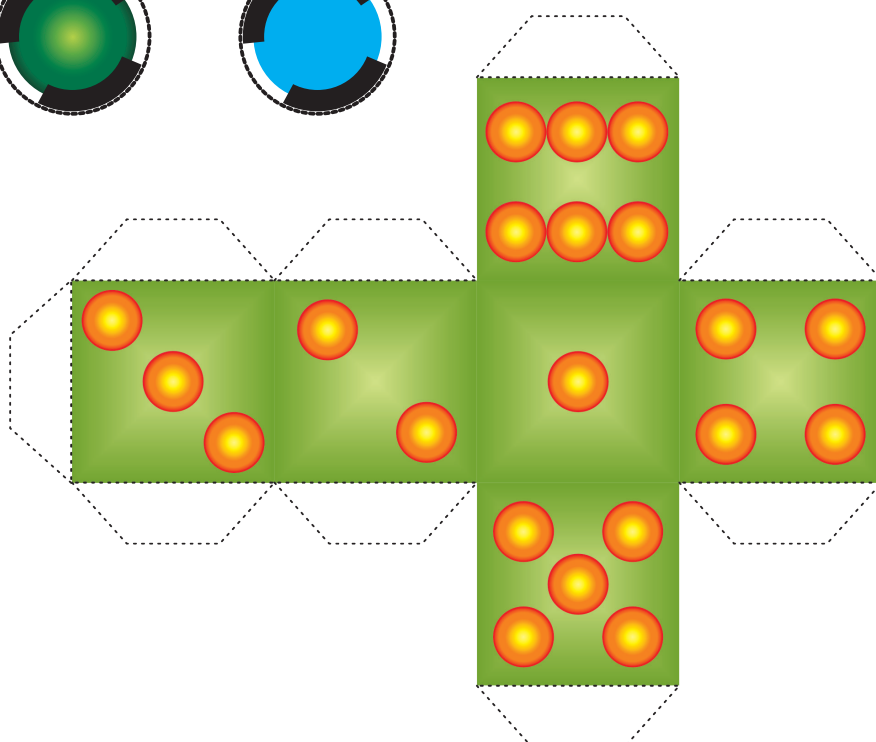




Opis gry:

Grę rozpoczyna gracz, który jako pierwszy wyrzuci jedynekę.

Następnie każdy gracz porusza się po planszy tyle pól, ile oczek wyrzuci. Jeśli jego pionek zajmie pole ze znakiem zapytania, wykonuje polecenie zadane przez osobę prowadzącą. Poprawna odpowiedź – gracz przesuwa się o dwa pola dalej, zła – cofa o 2 pola. Wygrywa ta osoba, która jako pierwsza dotrze do mety. Powodzenia!



1 Godzina to: 1. 60 minut 2. 45 minut 3. 100 minut	Dwa kwadranse to: 1. 15 minut 2. 30 minut 3. 45 minut	Godzina 14.00 jest: 1. przed południem 2. po południu 3. w nocy	Godzina szósta po południu to: 1. 16.00 2. 18.00 3. 6.00
75 minut to: 1. 2 kwadranse 2. 3 kwadranse 3. 5 kwadransów	Od 6.00 do 15 minęło: 1. 8 godzin 2. 9 godzin 3. 10 godzin	Ile dni upłynęło od 27 lipca do 15 sierpnia: 1. 20 dni 2. 25 dni 3. 10 dni	2 godziny 25 minut to: 1. 125 minut 2. 145 minut 3. 200 minut
1 kilometr to: 1. 1000 m 2. 100 m 3. 60 metrów	Liczby w dodawaniu to: 1. Składniki, suma 2. Składniki, iloczyn 3. Składniki, różnica	Odjemna to: 1. Wynik odejmowania 2. Liczba, od której odejmujemy 3. Liczba, którą odejmujemy	Suma to: 1. Wynik mnożenia 2. Wynik dodawania 3. Wynik odejmowania
Wynik mnożenia to: 1. Iloraz 2. Suma 3. Iloczyn	Jeden wiek ma: 1. 10 lat 2. 150 lat 3. 100 lat	Dwie doby to: 1. 24 godziny 2. 12 godzin 3. 48 godzin	Cztery tygodnie to: 1. 14 dni 2. 28 dni 3. 21 dni
Rok ma: 1. 365 lub 366 dni 2. 314 dni 3. 325 dni	Kwartał to: 1. 3 miesiące 2. 4 miesiące 3. 6 miesięcy	1 złoty to: 1. 200 groszy 2. 1000 groszy 3. 100 groszy	



Start



Start				38?	50?
↓	12	24?	25	39	51
1?	13	26	37	49	52
11	23	36	48?		
2	14?	27	41?	53	
10?	22	35	47		
3	15	28?	42	54	
9	21?	34?	46		
4?	16	29	43	55	
8?	20?	33	45		
5	17	30?	44?		
7	19	32			
6	18?	31?			



Meta